

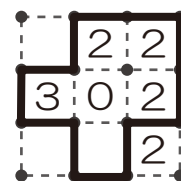
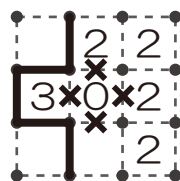
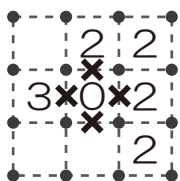
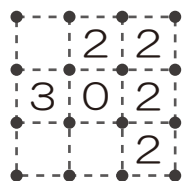


1～3のルールに従って、1つの繋がった線を引いてください。

ルール

- 1) 点と点の間にタテヨコに線を引きます。
- 2) マスにある数字は、そのマスの辺に引く線の数を表しています。
- 3) 線は枝分かれや交差することなく、全体で1つの輪を作ります。

例題



まず、0の周りに線はないので、×を書きます。

3のマスをみると、1辺が×なので、残りに線を引きます。

全体が1つの輪になるように残りの線を引きます。

