


1つの図形はどれ [1]




同じ図形のペアを消していくと残る図形はどれですか。
その図形をぬってください。
できるかぎり素早く解いてください。

例題




ペアを消すと△が残るので、△をぬります。

1




2



3



4



5



6

