


1つの図形はどれ [10]




同じ図形のペアを消していくと残る図形はどれですか。
その図形をぬってください。
できるかぎり素早く解いてください。

例題



ペアを消すと△が残るので、△をぬります。


1



2



3



4



5



6

