


1つの図形はどれ [ 4 ]



同じ図形のペアを消していくと残る図形はどれですか。  
その図形をぬってください。  
できるかぎり素早く解いてください。

例題




ペアを消すと△が残るので、△をぬります。


1



2



3



4



5



6

